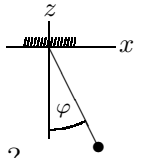
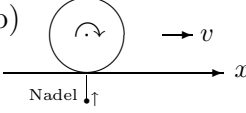


25) Zweimal  $\vec{L}$

- (a) Die Punktmasse  $m$  eines mathematischen Pendels ( $\ell$ ) hat den Ortsvektor  $\vec{r}(t) = \ell (s, 0, -c)$  und folglich den Drehimpuls  $\vec{L}(t) = ?$  Wie verwandelt sich die bekannte Beziehung  $\partial_t \vec{L} = \dots$  in die Pendel-Gleichung  $\ddot{\varphi} = ?$



- (b)  Ein Tischtennisball ( $M, R, I$ ) rotiert mit  $\omega$  reibungsfrei auf der Platte. Erst nachdem ihm der skizzierte Nadelstich widerfahren ist (infinitesimal hinein), rollt er mit  $v = ?$  davon.

1.5 + 1.5 = 3

26) Eine anisotropes Potentialminimum

Im Erdschwerefeld  $-mg\vec{e}_3$  hängt ein Massenpunkt  $m$  an drei Federn, deren anderes Ende bei  $\vec{a}$  bzw. bei  $\vec{b}$  bzw. bei  $\vec{c}$  befestigt ist:

$$\begin{aligned} \kappa, \ell, \vec{a} &= (2, 2, 1) \ell \cdot 1/2 \\ 4\kappa, \ell, \vec{b} &= (-2, 1, 2) \ell \cdot 5/12 \\ 7\kappa, \ell, \vec{c} &= (1, -2, 2) \ell \cdot 8/21 \end{aligned}$$

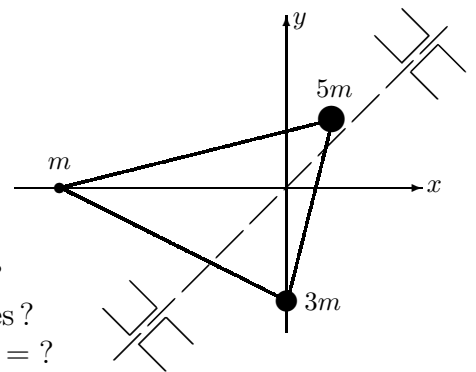
- (a) Weil alsbald nützlich, notieren wir zuerst die Entfernungen  $a, b, c$  und die Einheitsvektoren  $\vec{e}_a, \vec{e}_b, \vec{e}_c$  dieser drei Orte. Welcher Wert ist der Masse  $m$  zu geben, damit sie im Ursprung ihre Gleichgewichtsposition hat?
- (b) Zu kleinen Auslenkungen  $\vec{r}$  wird sich die Kraft als  $\vec{K} = -\kappa \cap \vec{r} + \mathcal{O}(r^2)$  schreiben lassen. Um die Matrix  $\cap$  zu ergründen, wären nun die drei Federkräfte zu linearisieren. Der Einfachheit halber lassen wir aber jetzt die Federenden auf Ebenen  $\perp \vec{e}_a$  etc. reibungsfrei gleiten. Dann ändert sich nichts an der Teil-(a)-Lösung, die Einheitsvektoren  $\vec{e}_a, \vec{e}_b, \vec{e}_c$  bleiben von  $\vec{r}$ -Korrekturen verschont und es gilt in Strenge z.B.  $\vec{K}_c = 7\kappa \vec{e}_c ( [c - \vec{e}_c \vec{r}] - \ell )$ , d.h.  $\vec{K}_c = -7\kappa \vec{e}_c (\vec{e}_c \vec{r}) +$  Terme, welche aufgrund der Teil-(a)-Festlegung in der Summe der vier Kräfte entfallen. — Als welche LK aus dyadischen Produkten erweist sich somit die Matrix  $\cap$ ? Und zu welchen schönen Zahlen werden schließlich ihre 9 Komponenten? (Wie  $m$  in der Mulde schwingt, wird auf Blatt 10 studiert werden.)

2 + 2 = 4

27) Ein Trägheitstensor

Die drei Massen  $m_1 = m$  bei  $\vec{r}_1 = (-10, 0, 0) a$   
 $m_2 = 3m$  bei  $\vec{r}_2 = (0, -5, 0) a$   
 $m_3 = 5m$  bei  $\vec{r}_3 = (2, 3, 0) a$

seien punktförmig und durch masselose Drähte starr untereinander verbunden.



- (a) Wo liegt der Schwerpunkt  $\vec{R}$  des Punktsystems? Und welchen Trägheitstensor  $I_1 + I_2 + I_3 = I$  hat es? Wir notieren ihn am besten als  $I = 30 m a^2 H$  mit  $H = ?$
- (b) Wir vermuten, daß  $H$  in einem um die  $z$ -Achse gedrehten System einfacher aussieht. Also bilden wir  $H'$  (noch unbekannte  $c, s$  enthaltend) und bestimmen den Drehwinkel so, daß alle Nichtdiagonalelemente verschwinden. Die Drehmatrix zeigt nun (neben  $\vec{f}_3 = \vec{e}_3$ ) die neuen Einheitsvektoren  $\vec{f}_1$  und  $\vec{f}_2$ . Wir tragen sie in ein Duplikat obiger Skizze ein — es sind die Hauptachsen des Körpers.  $H' = ?$
- (c) Mit den Drähten sei eine durch den Ursprung in  $\vec{f}_1$ -Richtung verlaufende Achse verlötet. Dreht man den Körper mit  $\omega$  um diese Achse, so hat er den Drehimpuls  $\vec{L}' = I' \vec{\omega}' = ?$

2 + 2.5 + .5 = 5